

Nombre y apellidos:

Curso 2ºA ESPA

IMPORTANTE

- 1º Realiza la prueba sin precipitación.
- 2º Redacta con coherencia. Lee con atención qué se pregunta y cómo en cada ejercicio.
- 3º Revisa la prueba antes de mandarla y no cometes faltas gramaticales. Recuerda que reducen la calificación.
- 4º Puedes emplear los materiales de los que dispongas en casa.
- 5º Tienes hasta el día 30 de mayo, incluido, para remitir el examen. Solo en casos excepcionales justificados la prueba será admitida después de esa fecha.

1) (0,60 puntos) Define el significado de:

- a) Densidad de población:
- b) Esperanza de vida:
- c) Pirámide de población:

2) (0,80 puntos) Une con flechas cada concepto de la columna de la izquierda con cada una de las explicaciones de la columna de la derecha que expresen su situación demográfica.

Países subdesarrollados

Países desarrollados

El analfabetismo es muy escaso, menos del 2%.

La esperanza de vida no suele superar los 70 años.

La tasa de natalidad es alta.

Llevan décadas con una tasa de mortalidad baja.

Son países receptores de emigrantes porque poseen mejores servicios sociales.

Suelen tener un saldo migratorio positivo.

Tasa de crecimiento natural alta.

Tienen una alta emigración.

3) (0,50 puntos) Marca la casilla de una respuesta, y solo una, para cada pregunta.

a) ¿Qué es la natalidad?

- El número de nacimientos en un territorio en un año.
- El número resultante de restar los bebés fallecidos antes de un año de los nacidos en un territorio.
- La proporción entre los nacidos y la cantidad de población (en ‰) en un territorio en un año.
- Los nacidos que sobreviven un año en un territorio.

b) ¿Qué es la tasa de mortalidad?

- El número de fallecidos en un territorio en un año.
- El número resultante de restar los bebés fallecidos antes de un año al total de los fallecidos en un territorio.
- La proporción entre los fallecidos y la cantidad de población (en ‰) en un territorio en un año.
- La edad media de los fallecidos durante un año en un territorio.

c) ¿Qué son los inmigrantes?

- La cantidad de personas que se trasladan de un país a otro.
- La población extranjera de un país que se vuelve al suyo.
- Las personas que entran en un país procedentes de otros países.
- Las personas que se van de un país a otro.

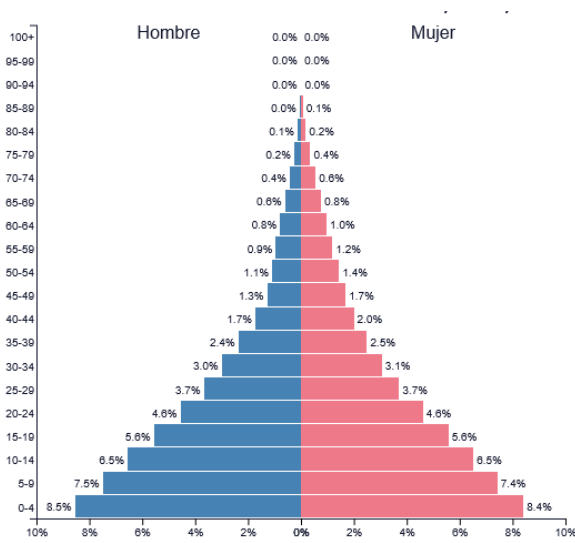
d) ¿Qué es el crecimiento vegetativo?

- La diferencia entre fallecidos y nacidos durante un año en una población.
- La diferencia entre nacidos y fallecidos durante un año en una población.
- La relación proporcional, en %, entre nacidos y fallecidos durante un año en una población.
- La relación proporcional, en ‰, entre fallecidos y nacidos durante un año en una población.

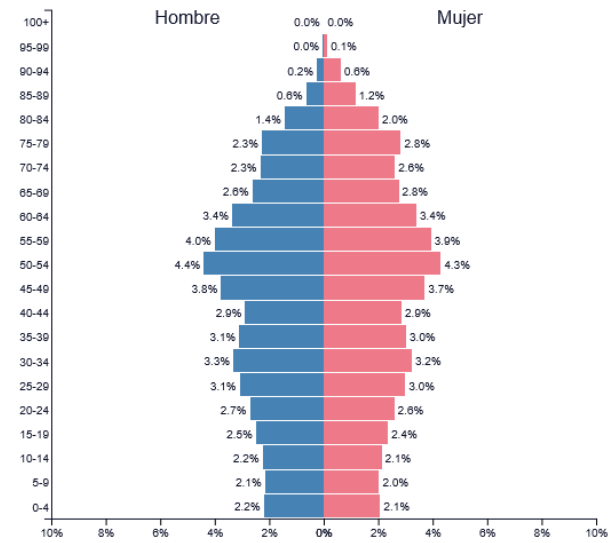
e) ¿Qué es el saldo migratorio?

- La diferencia entre emigrantes e inmigrantes durante un año en una población.
- La diferencia entre inmigrantes y emigrantes durante un año en una población.
- La relación proporcional, en %, entre emigrantes e inmigrantes durante un año en una población.
- La relación proporcional, en ‰, entre inmigrantes y emigrantes durante un año en una población.

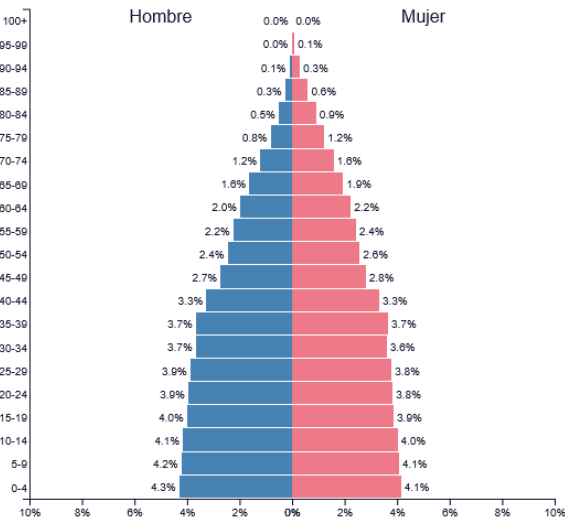
4) (1,25 puntos) Observa las pirámides de población para dar respuesta a las cuestiones.



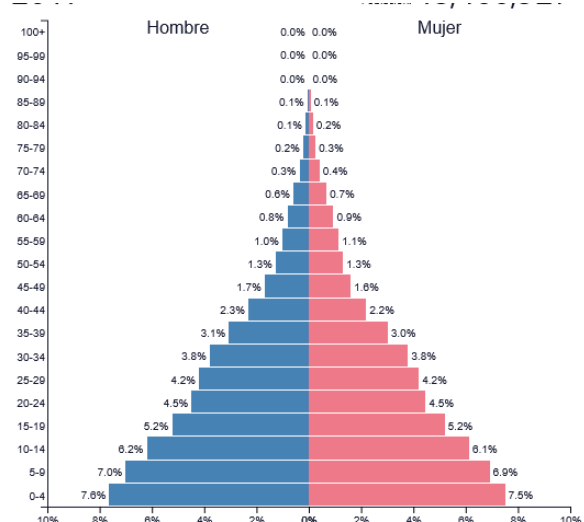
Pirámide 1



Pirámide 2



Pirámide 3



Pirámide 4

- a) ¿Cuál o cuáles de las anteriores pirámides representa una población joven? Justifica tu respuesta con un argumento basado en la observación de la pirámide.
- b) ¿Cuál o cuáles de las anteriores pirámides representa una población envejecida? ¿Qué tipo de países presentan una pirámide de este tipo? Cita una consecuencia social o económica o sanitaria de una situación demográfica con esas características.

5) (0,80 puntos) Datos demográficos de Aragón en 2013:

Población a 1 de enero de 2013: 1 347 150.

Extensión: 47 719 km².

Inmigración en 2013: 5 777.

Emigración en 2013: 10 771.

Nacimientos en 2013: 11 662.

Fallecidos en 2013: 13 362.

- a) Escribe los cálculos para hallar la tasa de crecimiento natural al acabar 2013.
- b) Escribe los cálculos para hallar el crecimiento real de la población al acabar 2013.
- c) Escribe los cálculos para hallar la densidad de población al empezar 2013.

6) (1,25 puntos) Lee atentamente este texto de Yves Lacoste y Raymond Ghirardi; contesta después las preguntas.

En otros tiempos, en todos los países, la casi totalidad de la población dependía del sector primario (...) y sólo una pequeña fracción representaba a los otros dos. En Europa, durante el siglo XIX, con la Revolución Industrial, el sector secundario adquirió una importancia considerable; los campesinos abandonaban los campos para convertirse en obreros de las ciudades.(...) pero en nuestros días [el sector terciario] (...) se hace crecientemente considerable en un número muy grande de países, mientras los efectivos del sector secundario no progresan casi nada: en efecto, el desarrollo del maquinismo frena el aumento del número de obreros, mientras que los servicios (...) emplean a un número creciente de personas (...).

- a) Históricamente, qué sector económico ha sido el más importante.
- b) ¿Dónde y con qué acontecimiento histórico el sector secundario se convirtió en el principal sector económico?
- c) ¿Qué sector económico está siendo el más importante actualmente? Cita alguna explicación que dé el autor en este texto.

7) (0,90 puntos; se descontarán 0,10 puntos por cada error u omisión) Al lado de los números siguientes, escribe el nombre de los países que están señalados en el mapa.

-1

-2

-3

-4

-5

-6

-7

-8

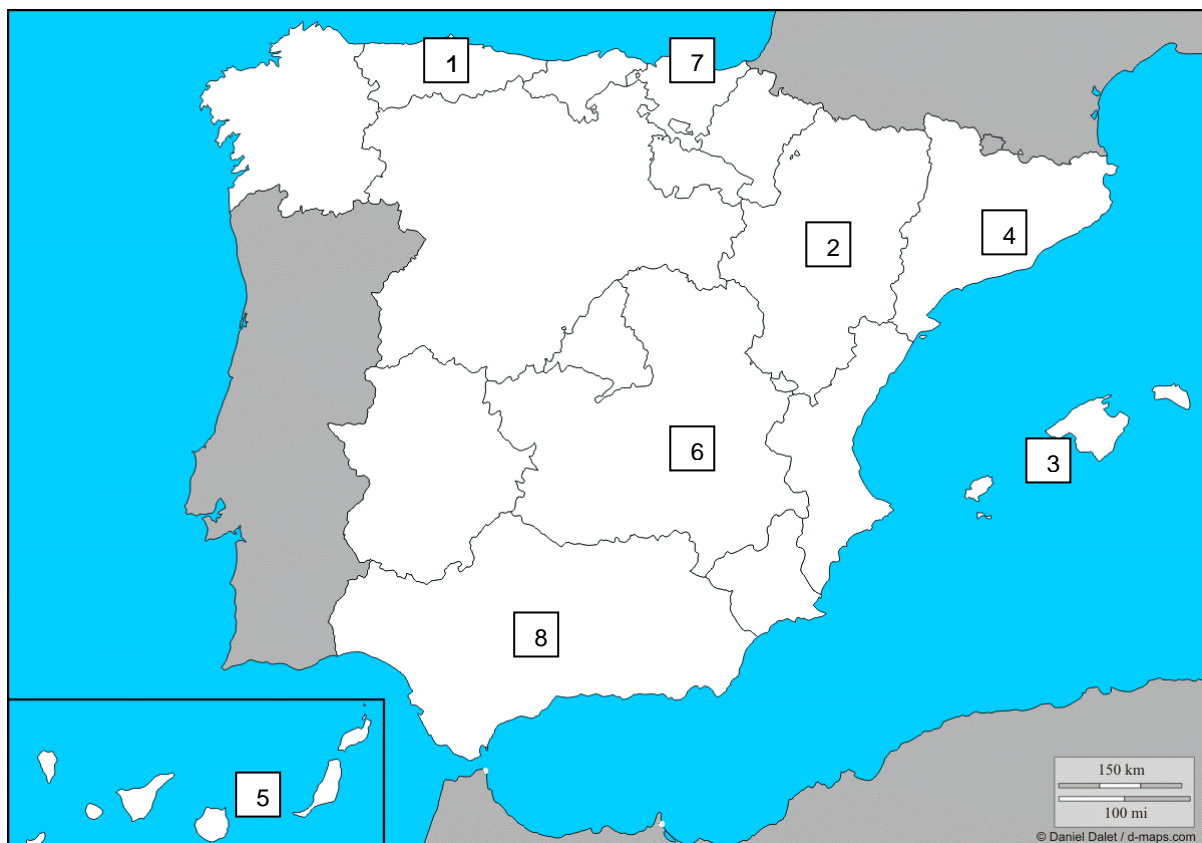
-9

-10



8) (0,70 puntos; se descontarán 0,10 puntos por cada error u omisión) Al lado de los números siguientes, escribe el nombre de las comunidades autónomas que están señaladas en el mapa.

- | | | |
|----|----|----|
| -1 | -2 | -3 |
| -4 | -5 | -6 |
| -7 | -8 | |

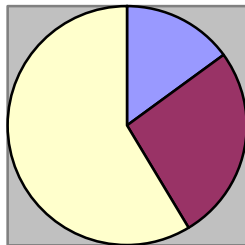


9) (2 puntos) Responde estas preguntas:

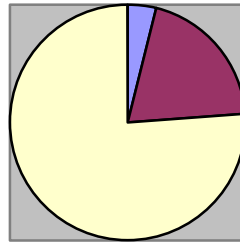
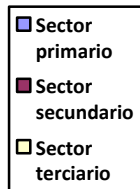
- ¿A qué se refiere el concepto “explosión demográfica”?
- Cita dos países asiáticos que tengan áreas de alta densidad de población.
- Cita dos países que tengan grandes áreas de desierto demográfico, uno por ser zona polar y otro por ser clima desértico:
De zona polar:

Por clima desértico:

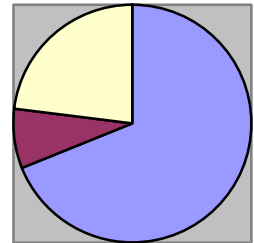
- d) ¿Cuál es la consecuencia demográfica para un país que tiene una gran emigración?
- e) Si decimos que la gente suele vivir en zonas fértiles, ¿a qué factor concreto de distribución de la población nos estamos refiriendo?
- f) ¿A qué se refiere el concepto “población ocupada”?
- g) Di si una población con la estructura de edad que tienes a continuación es joven, adulta o vieja:
 Población joven: 22,1%
 Población adulta: 60,3%
 Población vieja: 17,6%
- h) ¿En qué sector económico de la población activa hay que colocar a los trabajadores de un taller de reparación de automóviles?
- i) De las gráficas que tienes a continuación, una es de un país subdesarrollado, ¿cuál y por qué)



Gráfica A

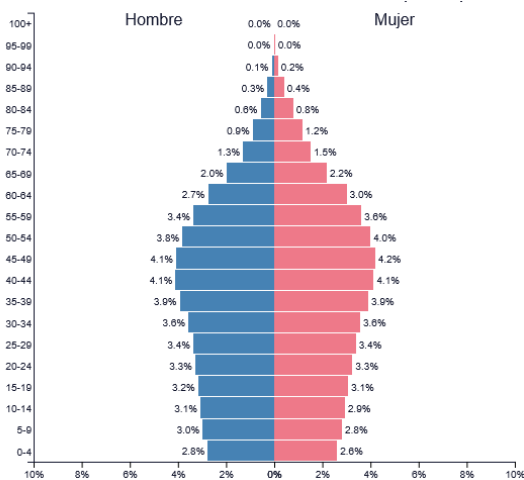


Gráfica B

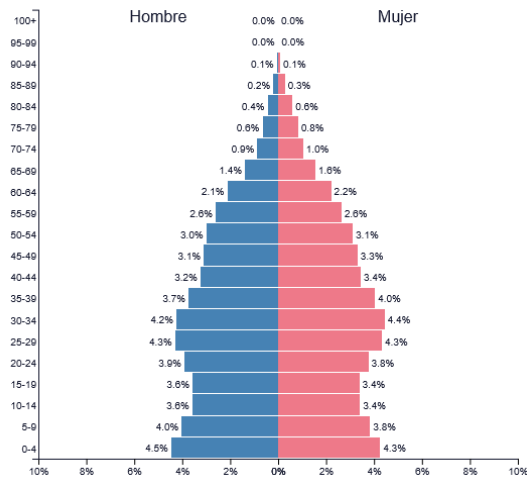


Gráfica C

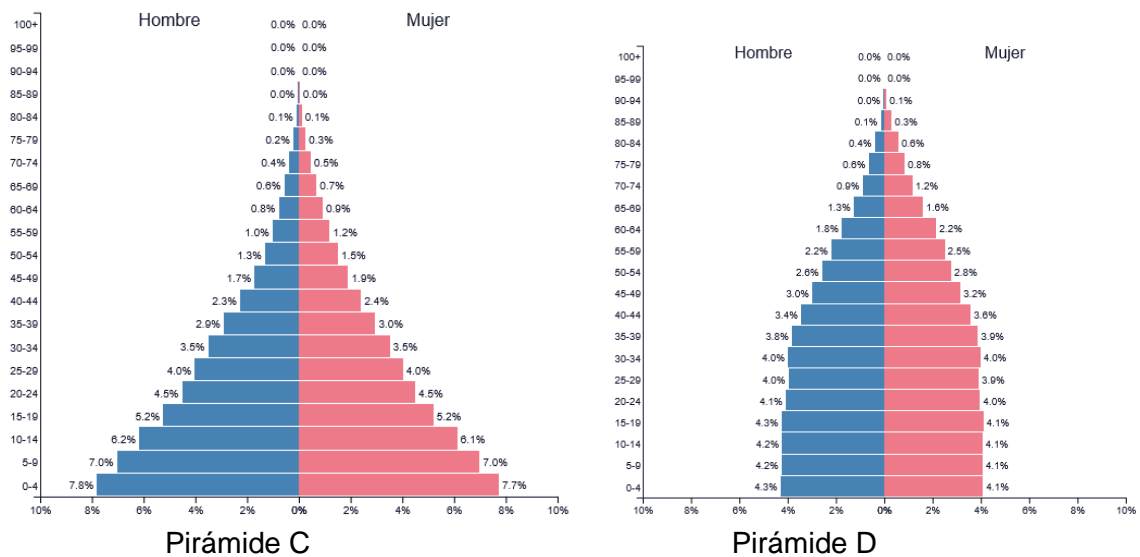
- j) ¿Cuál de las pirámides de población siguientes refleja una natalidad alta?



Pirámide A



Pirámide B



k) ¿Cuál de las pirámides de población anteriores refleja una esperanza de vida baja?

10) (1,20 puntos) Lee atentamente el texto y contesta las preguntas.

No obstante, las cifras oficiales de paro no reflejan con exactitud las transformaciones que se han producido en el mercado de trabajo. Las estadísticas de población activa informan sobre las personas que ocupan un puesto de trabajo declarado oficialmente, más aquellas que aspiran a ocupar uno. Pero ello no implica que las personas que no ocupan uno de estos puestos de trabajo estén sin hacer nada.

Progresivamente a partir de 1973 han ido apareciendo una serie cada vez más grande de trabajos no declarados oficialmente –es lo que recibe el nombre de economía sumergida- realizados en talleres clandestinos, en el propio hogar del trabajador, etc. La característica esencial de esta forma de trabajo sumergido es que no se dispone de seguridad social, ni de derechos sobre el puesto de trabajo.

- Recuerda el concepto: ¿quiénes conforman la población activa?
- Razona desde el contenido del texto, ¿los trabajadores de la economía sumergida son población activa o inactiva?
- Con la información que aporta el texto, ¿qué problemas pueden tener los trabajadores de la economía sumergida?
- Piensa: di una consecuencia negativa que tiene la economía sumergida para la economía o la sociedad.